



ATIVIDADES COMPLEMENTARES DE ESTUDO – COVID 19
ROTEIRO DE ATIVIDADES COMPLEMENTARES DE ESTUDO – COVID 19
29º ROTEIRO

ESCOLA MUNICIPAL GERALDA CHAVES TIRADENTES

PROFESSORA: DAIANA CARLA DE CASTILHO

TURMA: 3º ano A

ALUNO (a): _____

COMPONENTES CURRICULARES:

- **LÍNGUA PORTUGUESA**
- **MATEMÁTICA**
- **ENSINO RELIGIOSO**
- **HISTÓRIA**
- **GEOGRAFIA**
- **CIÊNCIAS**

PERÍODO DE REALIZAÇÃO: 30/11 a 04/12

- **LÍNGUA PORTUGUESA**

UM FELIZ NATAL

Poesia de criança:

Neste Natal
quero ganhar:
brilho, amor e alegria.
O brilho das estrelas,
o amor de Jesus.
a alegria de partilhar
e poder amar.

Quero formar:
uma família unida,
amizades queridas.

Quero ser:
uma boa amiga,
uma criança feliz.

Quero colocar:
Um feliz Natal!

Maria Carolina M. de Castro

The illustration shows a cherub with curly hair and wings, holding a lit torch, riding a shooting star. Below the shooting star is a large, smiling star with a face. There are several smaller stars scattered around the scene.

ATIVIDADES COMPLEMENTARES DE ESTUDO – COVID 19

Atividades:

1) O que Carolina quer ganhar neste Natal?


2) Como ela quer que sua família seja?

3) Como ela quer ser?

5) Como gostaria que sua família fosse?

• **MATEMÁTICA**

Biscoitos Natalinos



Ingredientes

Para a massa

330 gramas de manteiga mole
180 gramas de açúcar refinado
Raspas de 1 limão
1 colherinha de baunilha
450 gramas de farinha de trigo

Para a cobertura

1 1/3 xícara de açúcar de confeiteiro
2 colheres de água
Flocos para decorar

<http://www.bolsademulher.com/receita/580/como-fazer-biscoitos-para-o-natal>

1- Júlia e Pedro estão fazendo deliciosos biscoitos natalinos para o Papai Noel. Observe os ingredientes utilizados na receita e responda.

a- Qual número de ingredientes necessários?

b- Escreva os nomes dos ingredientes líquidos?

c- Agora, escreva os nomes dos ingredientes sólidos.

ATIVIDADES COMPLEMENTARES DE ESTUDO – COVID 19

2- Resolva as situações problema.

a- A receita de Júlia e Pedro renderá 50 biscoitos. Do total, 28 biscoitos serão deixados na lareira para o Papai Noel. Quantos biscoitos sobrarão?

b- Júlia resolveu fazer mais uma fornada de biscoitos. Pedro ajudou cortando em forma de corações, círculos e estrelas. Foram cortados 22 corações, 19 círculos e 3 estrelas. Quantos biscoitos foram cortados no total?

• **ENSINO RELIGIOSO**

É Natal no Mundo!

Trago-lhes uma notícia que vai causar muita alegria: acaba de nascer Jesus, o Salvador!

É Nata! Que surpresa! Natal é a comemoração do nascimento de Jesus.

Ele nasceu numa manjedoura, onde os animais se alimentavam.

Os verdadeiros cristãos sabem que o presente de Natal é o próprio Jesus, que se fez homem, por amor a todos nós.

Os enfeites de Natal representam um modo de preparar o coração para a vinda de Jesus.

♦ Descubra e complete as frases com as palavras abaixo:

DAR

AJUDAR

PAZ

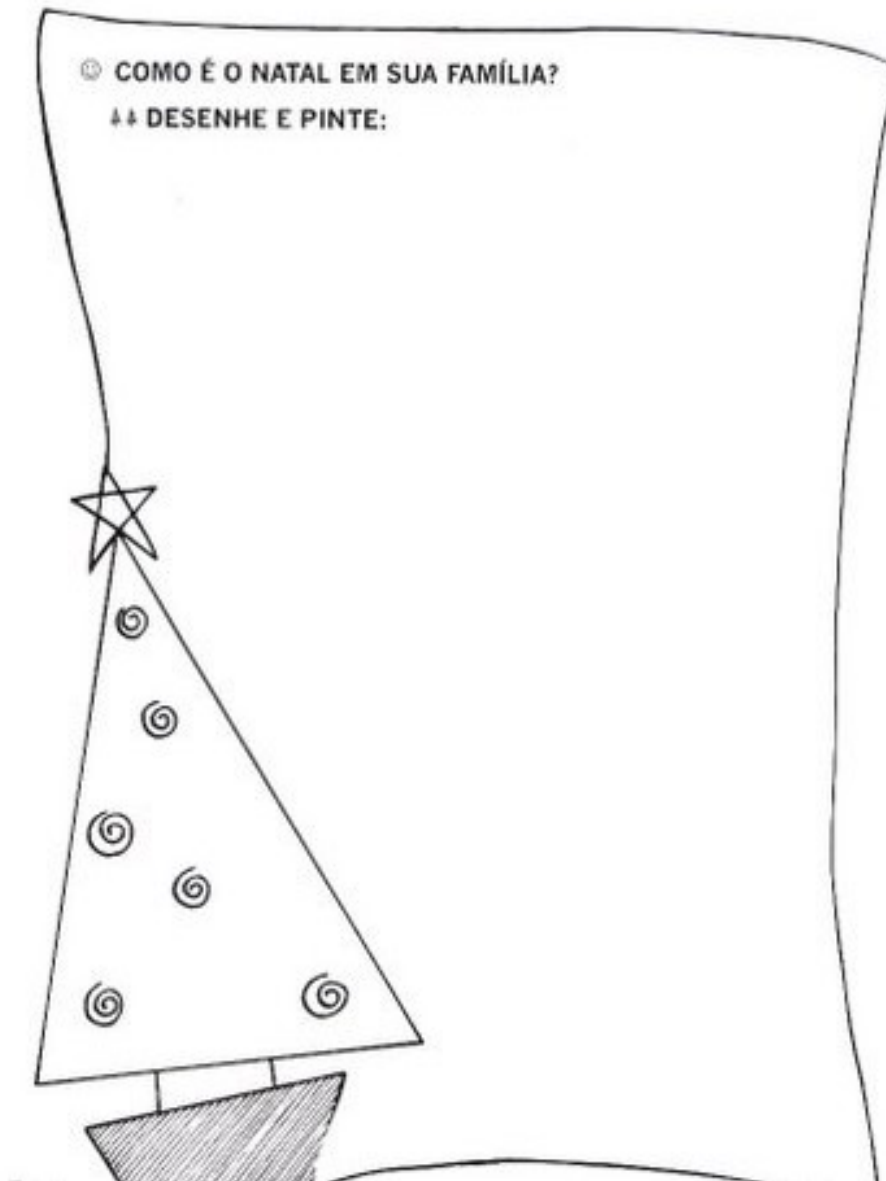
ORAÇÃO

PERDOAR






- **HISTÓRIA**



- **GEOGRAFIA**

◉ TREM



O TREM PARA NA ESTAÇÃO
COMO FOI GOSTOSO PASSEAR DE TREM!



SECRETARIA MUNICIPAL DE EDUCAÇÃO


ATIVIDADES COMPLEMENTARES DE ESTUDO – COVID 19

E VOCÊ? ACHA GOSTOSO PASSEAR DE QUE?

O TREM É UM MEIO DE TRANSPORTE:

() TERRESTRE () AQUÁTICO () AÉREO

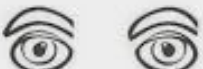
OBSERVE AS FIGURAS E COLOQUE **T** PRA TERRESTRE **A** PRA AQUÁTICO E **AE** PRA AÉREO





• **CIÊNCIAS**


Os sentidos humanos

Complete as frases com os sentidos correspondentes.

a) Os  são os órgãos da _____

b) Os  são os órgãos da _____


c) O  é o órgão do _____

d) As  são os órgãos do _____

e) A  é o órgão do _____

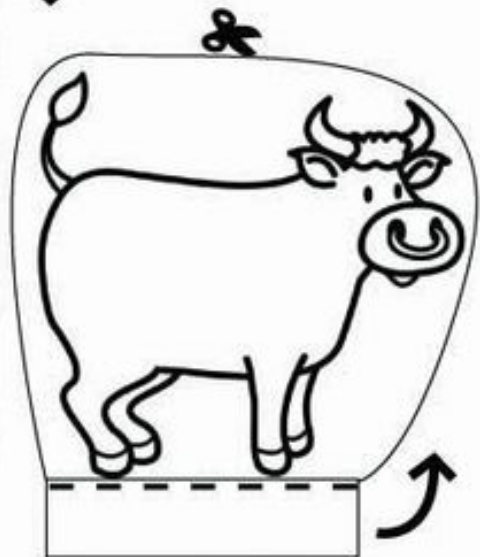



ATIVIDADES COMPLEMENTARES DE ESTUDO – COVID 19

• LÍNGUA INGLESA



• ARTE

**Vamos montar um lindo presépio? Na próxima página temos as peças necessárias.
Faça uma pintura linda, recorte e monte com sua família.**





ATIVIDADES COMPLEMENTARES DE ESTUDO – COVID 19

29º ROTEIRO

ESCOLA MUNICIPAL

PROFESSOR: SILDIMAR

COMPONENTE CURRICULAR: EDUCAÇÃO FÍSICA

NOME _____ TURMA: 3º ANO _____

O QUE VAMOS ESTUDAR: JOGOS ESPORTIVOS - ESPORTES DE PRECISÃO.

COMO VAMOS ESTUDAR ESSE CONTEÚDO?

ATRAVÉS DA ATIVIDADE “BOLICHE DE PETELECO”

MAS O QUE É BOLICHE??

DE ACORDO COM OS ESTUDOS O BOLICHE FAZ COM QUE AS CRIANÇAS PERCEBAM QUE SÃO CAPAZES DE APRENDER, POIS ESSE JOGO PODE PROPORCIONAR O APRENDIZADO DA RELAÇÃO NÚMERO-NUMERAL, BEM COMO OPERAÇÕES MATEMÁTICAS, NOÇÃO DE ESPAÇO, COORDENAÇÃO MOTORA, RACIOCÍNIO LÓGICO, CONCENTRAÇÃO, TRABALHO EM GRUPO, BEM COMO A ÉTICA, ENTRE OUTROS CONHECIMENTOS.


MATERIAIS NECESSÁRIOS PARA A ATIVIDADE:

10 PRENDEDORES DE ROUPA (OU A QUANTIDADE QUE TIVER DISPONÍVEL) OU ROLINHO DE PAPEL HIGIENICO.

01 OU MAIS, TAMPINHA DE GARRAFA PET OU OUTRA GARRAFA QUALQUER.

ATIVIDADE

- ESSA ATIVIDADE PODERA SER FEITA EM UMA MESA OU ATÉ NO CHÃO.
- COLOQUE OS PREGADORES EM “PÉ”, FORMANDO UM TRIÂNGULO COMO O DA FIGURA AO LADO.
- TOME DISTÂNCIA DE UNS TRÊS PALMOS.
- PARA LANÇAR A TAMPINHA NOS PRENDEDORES, VOCÊ DEVERÁ DAR UM PETELECO NA TAMPINHA, COMO MOSTRA A FIGURA ABAIXO. VOCÊ TERÁ TRÊS TENTATIVAS. DESAFIE SUA FAMILIA A TENTAR TAMBÉM.



COMO VAMOS REGISTRAR O QUE APRENDEMOS

DATA- ___/___/___

RESPONDA

- O QUE OS JOGOS DE BOLICHE NOS PROPORCIONAM??
